

## Министерство на образованието и науката

### ЦЕНТЪР ЗА КОНТРОЛ И ОЦЕНКА НА КАЧЕСТВОТО НА УЧИЛИЩНОТО ОБРАЗОВАНИЕ

#### П р и м е р е н м е с т

14. Какво е значението на подчертания израз?  
*Бай Ганьо казва на професор Иречек, че е врял и кипил в тия работи.*
- А) почтен  
 Б) опитен  
 В) уплатен  
 Г) честен

15. Къде трябва да се постави още една запетая в изречението?  
*Бащата на Милена не разбира, че гецага са пристали на гръщери му (1) и ги покани (2) евва (3) когаго те му казваха (4) защо цувват*
- А) 1  
 Б) 2  
 В) 3  
 Г) 4

16. Препишете текста, като редактирате допуснатите правописни и пунктуационни грешки, както и грешките в членуването.

*Според исковавателите трите най-големи камбани в Бъгария се намират в храм-паметника „Свети Александър Невски“ в София (12 м), в храм-паметника в град Шипка (11,6 м), и в Преображенския манастир край Велико Търново.*

*В Националният исторически музей се съхранява камбаната подарена от руският император Александър II, като според специалистите тя е най-красиво изработената и с най-мелодичният глас. Най-старата камбана намирана по Българските земи носи датировка от 1211 г.*

17. С кой факт от биографията на Христо Ботев се свързва годината, отбелязана в заглавието на творбата „На прощаване в 1868 г.“?

- А) преминанането на Ботевата чета през река Дуннав  
 Б) завземането на кораба „Различки“ и спизането на Козлодуйския бряг  
 В) разбиването на Ботевата чета във Врачанския балкан  
 Г) подготовката за преминанането на Дуннава с четата на Желъво войвода
18. На кого браилските хъшове възлагат „опасната и славна“ мисия да се срещне с Апостола?
- А) Странджата  
 Б) Бръчков  
 В) Македонски  
 Г) Владиков

19. Коя възрожденска песен „Гръмва“ след прочувствената реч на Странджата в III глава от повестта „Немили-недраги“?



- А) „Тръба звучи, Балкан стене“ („Вятър ечи, Балкан стене“)  
 Б) „Стани, стани, юнак балкански“  
 В) „Къде си, вярна ти, любов народна“  
 Г) „Хубава си, моя горо“

20. В разказа „Една българка“ кой оценява постъпката на баба Илиница с думите: „Ти си луда!“?

- А) хаджи Хасан ага  
 Б) бунтовникът  
 В) калуѓерът Евтимий  
 Г) Джембалазът

21. В първата част от разказа „Една българка“ Иван Вазов конкретизира историческото време и мястото на действието. Попълнете таблицата, като в съответната колона запишете цитираната информация от съдържанието.

- А) „след обяд на 20 май 1876 г.“  
 Б) „левия бряг на Искъра“  
 В) „Ботевата чета беше разбита“  
 Г) „Волът“ във Врачанския балкан“  
 Д) „Ботев падна пронизан от куршума на черкезката потеря“  
 Е) „срещу Лютнбород“


Историческо време на действието	Място на действието
	
.....	.....

22. Коя литературна творба може да бъде илюстрирана с тази фотография?



- А) „Опълченците на Шипка“ от Иван Вазов  
 Б) „Загоченици“ от Пејо Яворов  
 В) „По жътва“ от Елин Пелин  
 Г) „Бай Ганьо“ („На гости у Иречека“) от Алеко Константинов

23. Попълнете таблицата, като в съответните колони запишете по едно заглавие на изучавана в VII клас творба от съответния жанр.

ода	баллада	елегия
		

24. Кои са най-подходящите думи за смисъла на изречението?  
*Разказът на Елин Пелин „По жътва“ е близък до поезијата на народнопесенното творчество, тъй като основни персонажи в някои жътварски песни са \_\_\_\_\_ и \_\_\_\_\_ мома в селото.*

- А) житото, най-умната  
 Б) свежкравата, най-смената  
 В) слънцето, най-личната  
 Г) юнакът, най-мързелливата

25. Разгледвайте в две-три изречения какво е внушението на стиха *За сърцата, що се любят, и сърцата не е раздяла* от „Неразделни“ на Пенчо Славейков.

### Ключ с верните отговори и критериите за оценяване на теста „Човекът и природата“, публикуван в бр. 4 на „Дз Букви“

#### I част. Задачи с избираем отговор.

Задачите са с избор на отговор и се оценяват с 1 точка за правилен отговор и с 0 точки при грешен отговор, липса на такъв или посочен повече от един отговор.

Зад. №	Отговор	Зад. №	Отговор	Зад. №	Отговор
1.	Б	7.	В	13.	А
2.	Г	8.	Г	14.	Б
3.	В	9.	Г	15.	В
4.	А	10.	В	16.	А
5.	А	11.	Б	17.	В
6.	Б	12.	Г	18.	Г

#### Част II. Задачи със свободен отговор

Задачите със свободен отговор се оценяват с 2 точки в зависимост от посочените критерии.

#### Задача 19. Отговори:

Плътността на кубчето е 0,8 g/cm<sup>3</sup> ..... 1 т.      2. ларва ..... 1 т.  
 Кубчето е направено от дърво ..... 1 т.      3. какавида ..... 1 т.

#### Задача 20. Отговори:

А. химично разлагане ..... 1 т.  
 Б. кислород ..... 1 т.

#### Задача 21. Отговори:

2. ларва ..... 1 т.  
 3. какавида ..... 1 т.

Скала за превръщане на точките в оценки по шестобалната система

Точки	Оценка
0 – 5	Слаб (2)
6 – 10	Среден (3)
11 – 15	Добър (4)
16 – 20	Много добър (5)
21 – 24	Отличен (6)